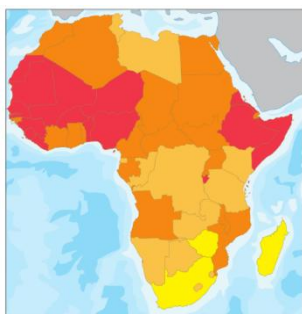


Učebnice str.71-76



podíl negramotných obyvatel nad 15 let  
10-20% 20-35% 35-60% 60-100%

Evropské a další vyspělé země se snaží zdejšími zemím účinně pomoci při řešení krizí spojených s hladem, nízkou úrovní vzdělanosti, nedostatečnou zdravotní péčí a nezaměstnaností. Pomáhají také řešit vnitřní i mezinárodní konflikty.

Afrika nabízí široké možnosti pro rekreaci a poznávání.

### Regiony Afriky

Rozdílné přírodní poměry ovlivnily hospodaření a životní úroveň obyvatel.

Afriku můžeme rozdělit do 5 regionů:

- 1 arabská severní Afrika,
- 2 sahel,
- 3 země Guinejského zálivu a povodí Konga,
- 4 východní Afrika,
- 5 jižní Afrika.



regiony Afriky

### 1. ARABSKÁ SEVERNÍ AFRIKA

Do arabské severní Afriky řadíme státy, které leží severně od Sahary při pobřeží Středozemního moře. Obyvatelstvo tvoří převážně Arabové (europoidní rasa).

Do této oblasti patří státy: MAROKO, ALŽÍRSKO, TUNISKO, LIBYE a EGYPT.



státy arabské severní Afriky

### 2. SAHEL

Oblast sahelu\* se rozprostírá od jižního okraje Sahary přes oblast polo pouští až k pásu savan. Tato část Afriky je velmi suchá.

Do oblasti sahel patří státy: ZÁPADNÍ SAHARA, MAURITÁNIE, NIGER, MALI, ČAD, SÚDÁN a JIŽNÍ SÚDÁN.

V oblasti suchých savan se lidé žijí převážně pasterectvím.



státy oblasti sahelu

### 3. ZEMĚ GUINEJSKÉHO ZÁLIVU A POVODÍ KONGA

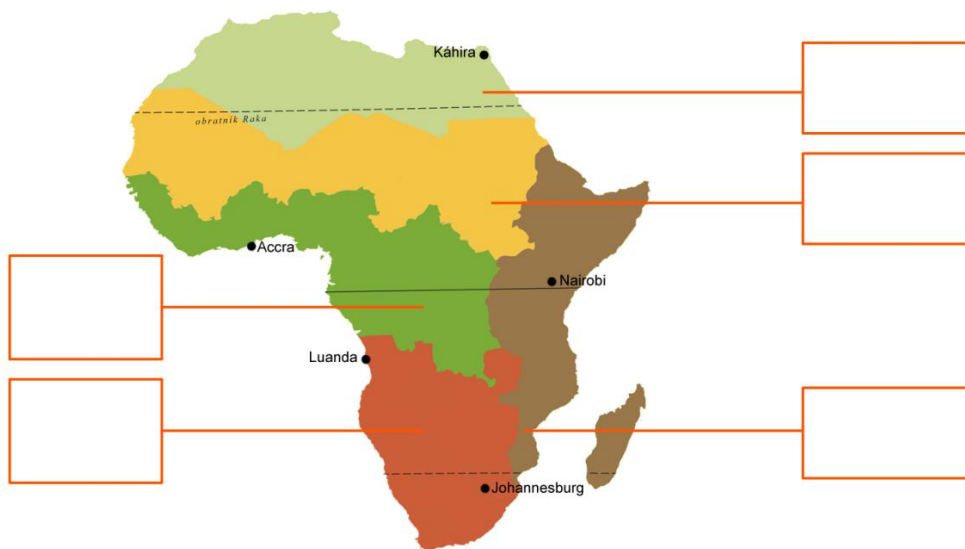
Oblastí Guinejského zálivu prochází rovník. Pro celou oblast zálivu i povodí řeky Kongo jsou typické vlhké rovníkové podnebí a tropické deštné lesy. Od oceánu přicházejí v průběhu celého roku hojné srážky, kterých směrem do vnitrozemí ubývá.



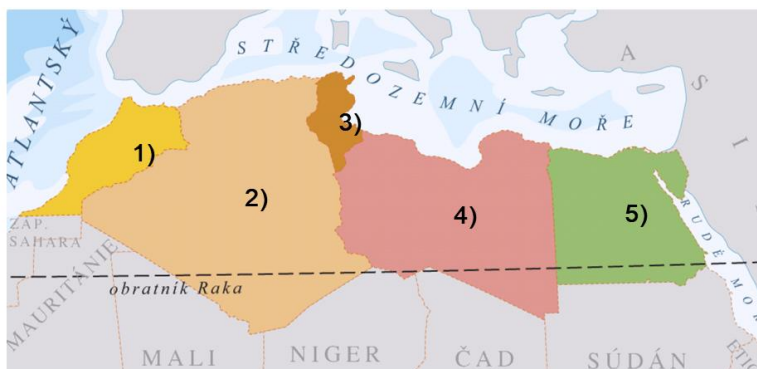
státy Guinejského zálivu a povodí Konga

Jméno:

Do rámečku vypiš regiony Afriky, pracuj s učebnicí. (str.71)



Do rámečku vypiš státy Arabské Severní Afriky, pracuj s učebnicí. (str.72)



1)	
2)	
3)	
4)	
5)	

Do rámečku vypiš státy státy Sahelu, pracuj s učebnicí. (str.74)



1)	
2)	
3)	
4)	
5)	
6)	
7)	