

Osa úhlu

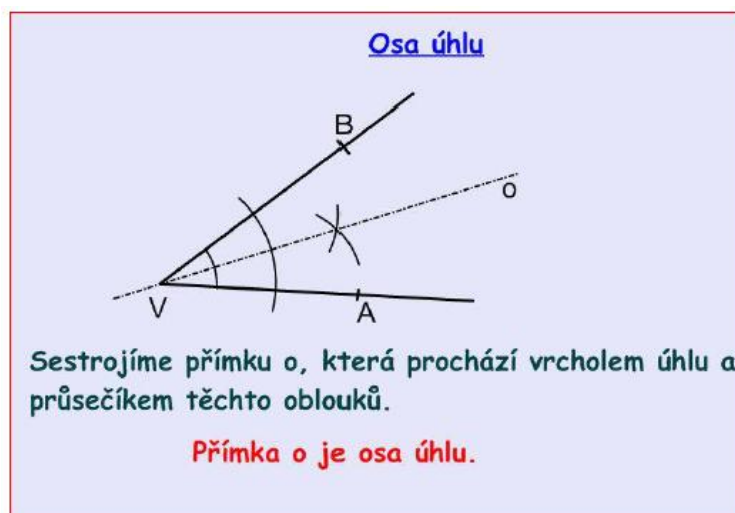
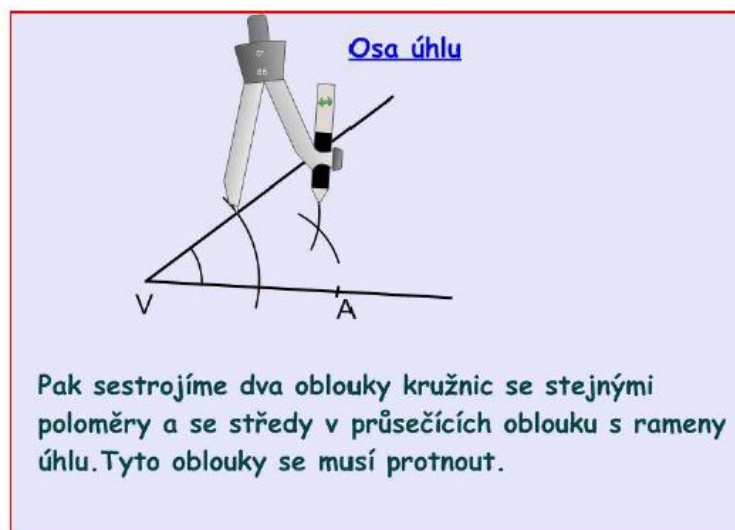
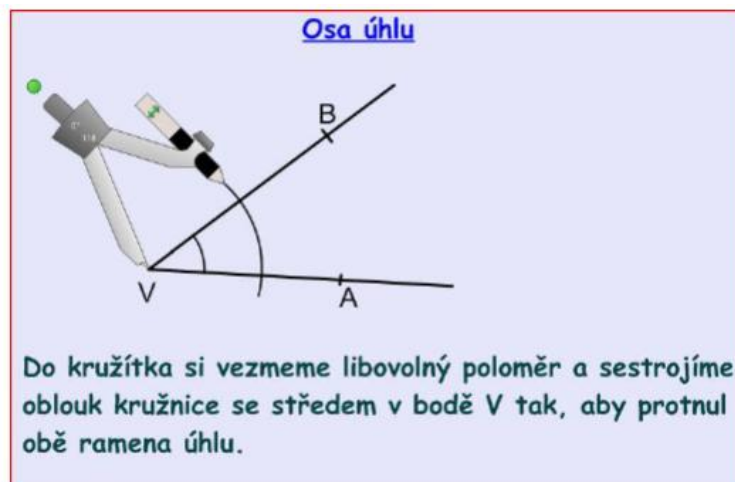
1. Podívej se na video:

Rýsování osy úhlu

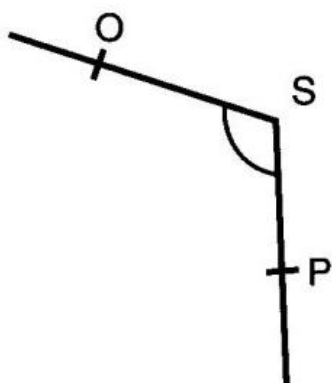
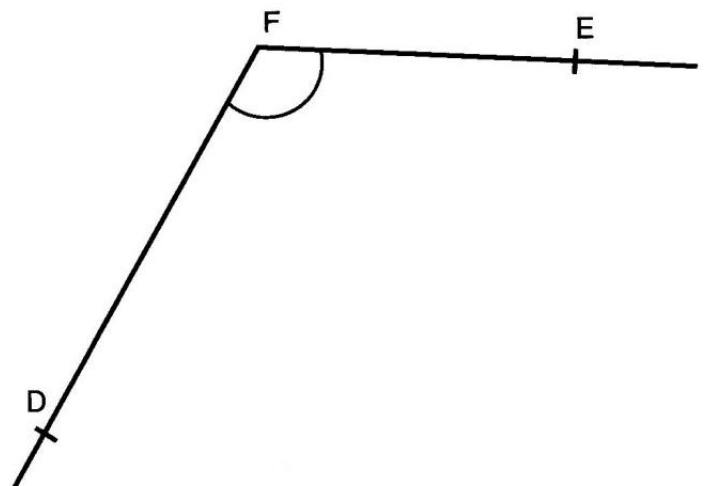
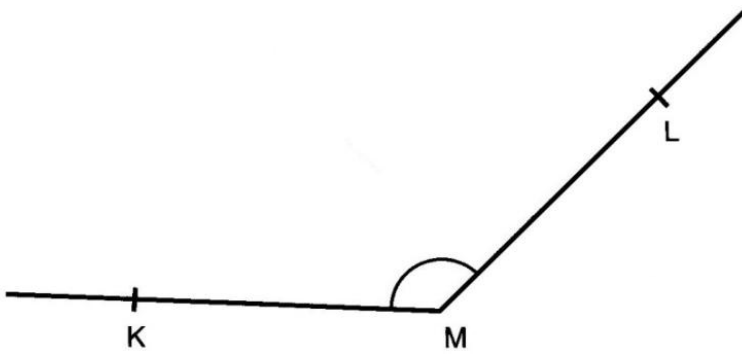
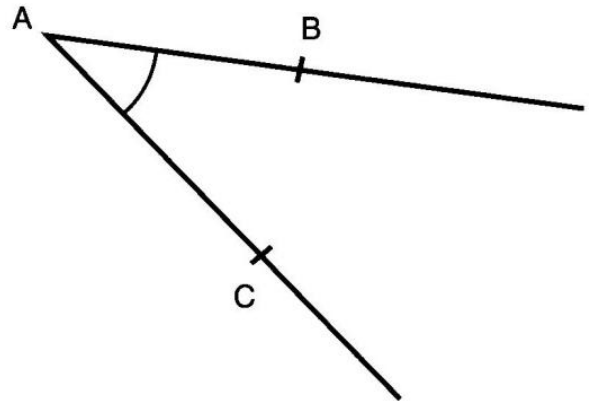
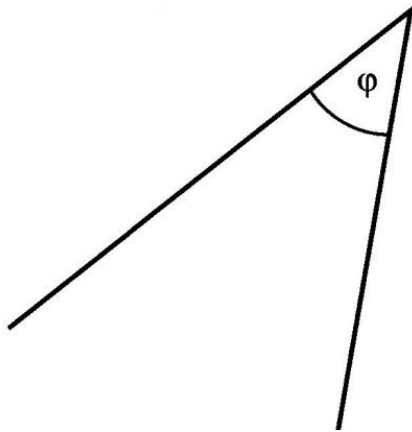
<https://youtu.be/5rp6Q-4bgOA>

2. Zápis do sešitu.

Do sešitu si napiš nebo nalep:



Jméno:

PL 33 – osa úhlu**1. Sestroj osy daných úhlů.**

2. Osa úhlu.

- Narýsuj úhel 50° , sestroj jeho osu a označ tento úhel α_1 a α_2 .
- Narýsuj úhel 80° , sestroj jeho osu a označ tento úhel β_1 a β_2 .

3. Osa úhlu.

- Narýsuj úhel 110° , sestroj jeho osu a označ tento úhel α_1 a α_2 .
- Narýsuj úhel 130° , sestroj jeho osu a označ tento úhel β_1 a β_2 .

4. V trojúhelníku ABC sestroj osy úhlů (stačí 2 osy). Jejich průsečík označ S.
Sestroj kolmici z průsečíku S k úsečce AB a pojmenuj ji p.
Narýsuj kružnici k (S; p),

